









राजकीय ..... विद्यालय ..... (.....)

आधार रेखा मूल्यांकन कक्षा -3 विषय - गणित दिनांक : \_\_\_ / \_\_\_ / \_\_\_

नाम : ..... रो.नं. : ..... ग्रेड : .....

नीचे दिये गये चित्रों को गिनकर लिखिये -

	9
	
	
	
	
	
	
	
© <a href="http://www.CCEguru.com">www.CCEguru.com</a>	



[www.CCEguru.com](http://www.CCEguru.com)

आधार रेखा मूल्यांकन द्वारा इस विद्यार्थी का कक्षा स्तर गणित विषय में कक्षा ..... के स्तर का पाया गया |

[www.CCEguru.com](http://www.CCEguru.com)

ह. अध्यापक